



ОБРАЗОВНИ ЦЕНТАР "РАДИОНИЦА"  
ИНИЦИЈАЛНИ ТЕСТ ЗА ДРУГИ РАЗРЕД

1. Нацртај фигуру:


Правоугаоник :




Круг:



Троугао:



Квадрат:



2. Нацртај:


Праву линију



Отворену криву линију



Дуж АБ



ОБРАЗОВНИ ЦЕНТАР "РАДИОНИЦА"  
ИНИЦИЈАЛНИ ТЕСТ ЗА ДРУГИ РАЗРЕД

3. Напиши бројеве речима:

19 \_\_\_\_\_ 72 \_\_\_\_\_

58 \_\_\_\_\_ 99 \_\_\_\_\_

4. Напиши бројеве који су већи од 47 а мањи од 56:

---

5. Допуни реченице:

Највећи једноцифрени број је \_\_\_\_\_

Претходник броја 76 је \_\_\_\_\_

Највећи двоцифрени број је \_\_\_\_\_

Слебеник броја 59 је \_\_\_\_\_

Најмањи двоцифрени број је \_\_\_\_\_

Најмањи број треће десетице је \_\_\_\_\_

6. Упиши у кружић >, < или =

19-4 ○ 17

19 ○ 12+7

20 ○ 11+5

11 ○ 16-6

16 ○ 9+8

9+3 ○ 12

7. Нацртај скуп од 7 цветића



8. Израчунај:

12+6= \_\_\_\_\_

19-6= \_\_\_\_\_

20-8= \_\_\_\_\_

8+11= \_\_\_\_\_

16-7= \_\_\_\_\_

14+6= \_\_\_\_\_

9+17= \_\_\_\_\_

12-4= \_\_\_\_\_

11+9= \_\_\_\_\_

**ОБРАЗОВНИ ЦЕНТАР "РАДИОНИЦА"**  
**ИНИЦИЈАЛНИ ТЕСТ ЗА ДРУГИ РАЗРЕД**

9. Израчунај:

$(78 - 14) + 6 =$  \_\_\_\_\_  $40 + 30 - 20 =$  \_\_\_\_\_

$23 + (12 + 16) =$  \_\_\_\_\_  $(60 - 10) + 40 =$  \_\_\_\_\_

10. Збиру бројева 59 и 12 додај број 3 :

\_\_\_\_\_

11. Разлику бројева 47 и 6 увећај за 8

\_\_\_\_\_

12. Напиши бројеве 7 десетице

\_\_\_\_\_

13. Маја је направила 57 колача, а њена сестра Тања је направила 4 колача мање. Колко је колача направила Тања ?

\_\_\_\_\_

14. Марко има 15 кликера, од друга је добио још 7. Колико ће му остати ако сестри да 9 кликера ?

\_\_\_\_\_

15. У корпи су лежали мачићи. Када је Ана узела 2, остало их је 7. Колико је мачића било у корпи на почетку ?

\_\_\_\_\_

16. У воћњаку је првог дана засађено 20 стабала Јабука, а другог дана још 35. Колико стабала још треба засадити, да би у воћњаку било 65 стабала Јабука ?

\_\_\_\_\_

17. Састиви и реши текстуални задатак на основу једнакости :  $(37 + 6) - 12 =$

\_\_\_\_\_

\_\_\_\_\_

\_\_\_\_\_